

Kl. VIII – historia

2 próbne testy przed egzaminem końcowym 8 - klasisty

Polska Rzeczpospolita Ludowa

Test podsumowujący rozdział VI

Imię i nazwisko

Data

Klasa

1. Czytaj uważnie polecenia.
2. W zadaniu 9. podano cztery odpowiedzi: A, B, C, D. Wybierz tylko jedną z nich i postaw obok niej znak „X”. Jeśli się pomylisz, błędne zaznaczenie otocz kółkiem.
3. Rozwiązania pozostałych zadań zapisz czytelnie i starannie w wyznaczonych miejscach. Pomyłki przekreślaj.
4. Przy każdym poleceniu podano liczbę punktów, jaką można uzyskać za właściwą odpowiedź. Za rozwiązanie całego testu możesz otrzymać maksymalnie **37 punktów**.


1 Dopisz do podanych wydarzeń odpowiednie daty. Następnie zaznacz je na osi czasu.

0–6 p.

utworzenie NATO – rok

uchwalenie konstytucji PRL – rok

wprowadzenie stanu wojennego w Polsce – rok



2 Wyjaśnij znaczenie podanych terminów.

0–3 p.

Żelazna kurtyna –

.....

Centralne planowanie –

.....

Żołnierze Wyklęci –

.....

3 Zapisz nazwy pięciu państw, które należały do Układu Warszawskiego.

0–5 p.

•

•

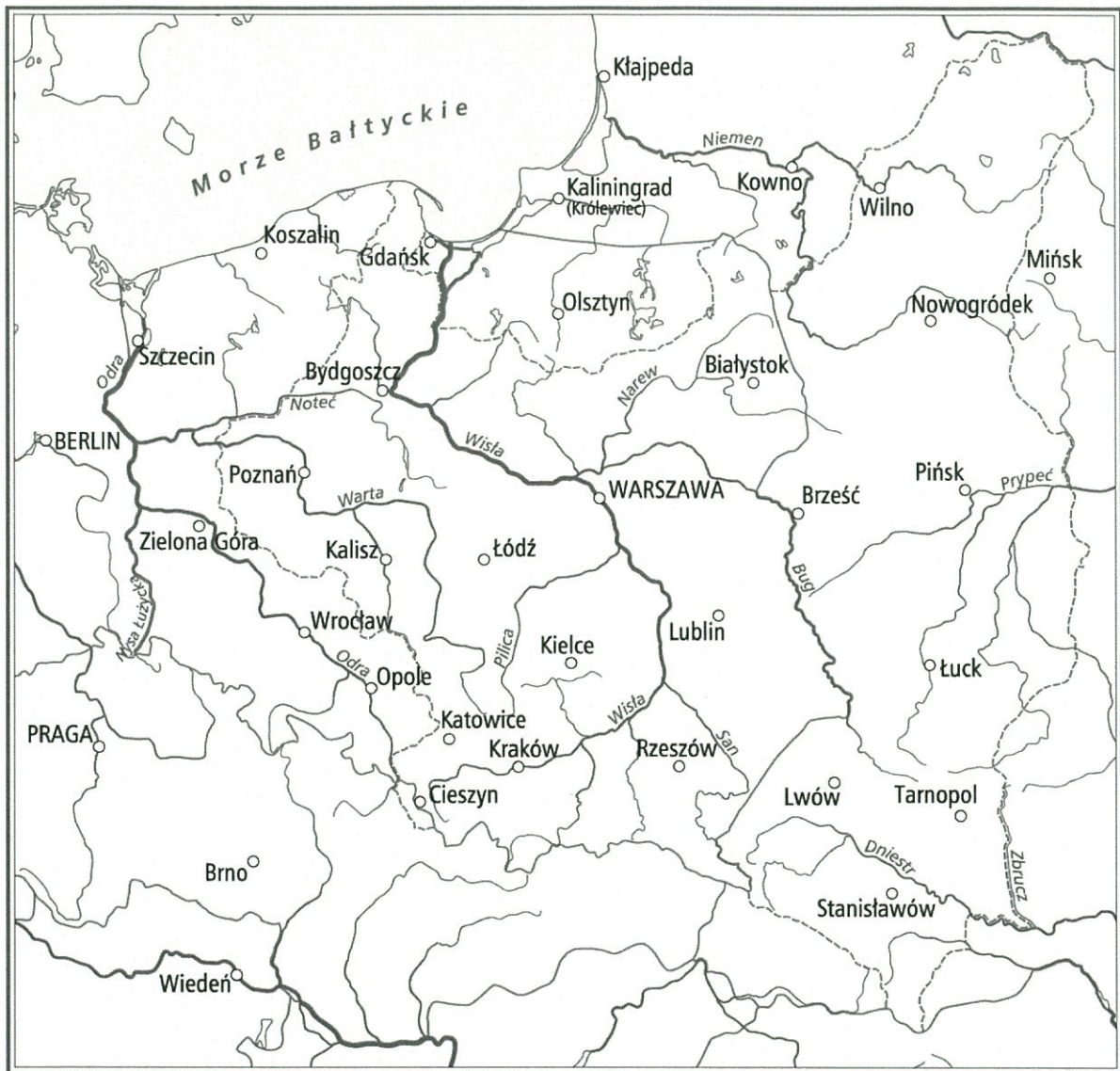
•

•

•

4 Przyjrzyj się zamieszczonej mapie. Następnie wykonaj polecenia.

0–5 p.



- Zakreśl obszary przyłączone do państwa polskiego w 1945 roku.
- Podkreśl nazwę dowolnego miasta, które Polska utraciła w wyniku II wojny światowej.
- Zapisz na mapie nazwy krajów, które graniczyły z Polską Rzeczpospolitą Ludową.

5 Wstaw literę „P” w kratki przy zdaniach prawdziwych, a literę „F” – obok zdań fałszywych.

0–4 p.

- W okresie dyktatury komunistycznej w Polsce istniała cenzura.
- Po 1945 roku w krajach Europy Zachodniej wyzwolonych przez Amerykanów i Brytyjczyków wprowadzono ustrój komunistyczny.
- Dzięki pomocy udzielonej państwu polskiemu w ramach planu Marshalla w Warszawie wzniesiono Pałac Kultury i Nauki.
- Wprowadzenie stanu wojennego zapoczątkowało w Polsce okres zwany czasami stalinowskimi.

6 Zapisz imiona i nazwiska postaci, których dotyczą poszczególne opisy.

0–3 p.

- – ksiądz zaangażowany w działalność opozycji demokratycznej, zabity przez funkcjonariuszy SB.
- – Laureat Pokojowej Nagrody Nobla w 1983 roku.
- – generał, który w 1981 roku stanął na czele państwa polskiego.

7 Opisz sposoby ograniczania swobód obywatelskich przez komunistyczne władze PRL.

0–4 p.

.....

.....

.....

.....

.....

.....

.....

.....

.....

.....

8 Rozwiń podane skróty.

0–3 p.

- NSZZ –
- MO –
- PGR –

9 Wskaż właściwe dokończenie każdego zdania.

0–2 p.

- W 1956 roku doszło do masowych wystąpień ludności w
 - A. Poznaniu.
 - B. Gdyni.
 - C. Krakowie.
 - D. Radomiu.
- Karol Wojtyła został wybrany na papieża w roku
 - A. 1968.
 - B. 1974.
 - C. 1978.
 - D. 1979.

10 Zaznacz jeden wyraz w każdym nawiasie, tak aby powstały zdania prawdziwe.

0–2 p.

- Okres rywalizacji między państwami komunistycznych a krajami Zachodu nazywany jest (*zimną / wschodnią*) wojną.
- W 1961 roku w (*Berlinie / Moskwie*) wzniesiono mur dzielący miasto na części wschodnią i zachodnią.

Polacy podczas II wojny światowej

Test podsumowujący rozdział II

imię i nazwisko	
klasa	data

1 Oceń, czy poniższe zdania są prawdziwe. Zaznacz literę „P” przy zdaniach prawdziwych, a „F” – przy fałszywych.

0-2 p.

Pierwszym premierem rządu polskiego na emigracji był Władysław Raczkiewicz.	P	F
Po klęsce wrześniowej przedstawiciele najwyższych władz Polski zostali internowani na Węgrzech.	P	F
Polski rząd na emigracji został uznany przez władze Francji i Wielkiej Brytanii od razu po utworzeniu.	P	F

2 Zapoznaj się z mapą, a następnie uzupełnij poniższy tekst. Przyporządkuj do każdego zdania właściwe uzupełnienie spośród oznaczonych literami A-C.

0-3 p.



- granice państw w 1943 r.
- - - granice inne
- granice II Rzeczypospolitej
- granice tzw. Wielkich Niemiec w latach 1941–1944
- hitlerowskie obozy koncentracyjne i zagłady
- większe getta żydowskie

Na mapie widać, że wschodnią granicę obszaru II RP, na którym Niemcy tworzyli obozy koncentracyjne i obozy zagłady, wyznacza linia 2.1. _____. Jednak tylko nieliczne spośród nich – w tym między innymi obóz w Oświęcimiu – powstały na terytorium, które u schyłku 1939 r. znajdowało się w granicach 2.2. _____. Wyraźnie większy był obszar, na którym tworzone same getta. Jedno z nich powstawało na przykład w wysuniętym daleko na południe 2.3. _____.

- | | | |
|------------------|------------|---------------------------------|
| 2.1. A. Wisły | B. Bugu | C. dawnej granicy II RP i ZSRS. |
| 2.2. A. ZSRS | B. Niemiec | C. Generalnego Gubernatorstwa |
| 2.3. A. Chełmnie | B. Pińsku | C. Stanisławowie |

3 Opisz działania stosowane przez okupanta wobec ludności polskiej na obszarze oznaczonym na mapie literą B. Wykorzystaj właściwe pojęcia spośród tych, które wymieniono w ramce.

0-3 p.

tapanki, getta, obozy koncentracyjne, zsyłki, kolektywizacja, paszportyzacja, granatowa policja, Gestapo, NKWD

- 4** Zapoznaj się z treścią obwieszczenia opublikowanego w Biuletynie Informacyjnym 2 września 1943 r., a następnie – odwołując się do jego treści, podaj, za jakie przestępstwa podziemne sądy wydawały karę śmierci.

0-4 p.

Obwieszczenie. Na mocy wyroku Sądu Specjalnego Okręgu krakowskiego zostali skazani na śmierć: Jan Grabiec, właściciel zakładu krawieckiego w Krakowie [...] za to, że: 1) w r. 1943 celowo i rozmyślnie spowodował niebezpieczeństwo aresztowania wielu członków organizacji niepodległościowej, 2) groził doniesieniami do Gestapo, 3) szantażował mieszkańców wsi groźbą doniesienia o ukrywaniu Żydów. Wyrok wykonany przez zastrzelenie dnia 17.7.43.

Wojciech Krzeszowski [...] za to, że oskarżył dwie osoby o posiadanie broni, skutkiem czego zostały one rozstrzelane. Wyrok został wykonany przez zastrzelenie dnia 2.8.43.

Józef Kotas [...] za to, że tropił włościan [chłopów] czytających prasę podziemną i spowodował wysłanie kilku z nich do Oświęcimia, uczestniczył na wiosnę w łapaniach, oraz znęcał się nad schwytanymi na roboty do Rzeszy. Wyrok został wykonany przez zastrzelenie w nocy z 29 na 30.7.43.

Kierownictwo Walki Podziemnej

- 5** Wyjaśnij, w jaki sposób podane wydarzenia wpłynęły na relacje pomiędzy rządem polskim i władzami ZSRS. W 2-4 zdaniach przedstaw, jak wyglądała sytuacja przed każdym z tych wydarzeń i po nim.

0-6 p.

podpisanie układu Sikorski-Majski – _____

ujawnienie informacji o mordzie katyńskim – _____

- 6** Wskaż, w jakiej kolejności doszło do podanych działań zbrojnych, w których uczestniczyli polscy żołnierze. W tym celu wpisz cyfry od 1 do 4, zaczynając od tego, do którego doszło najwcześniej.

0-2 p.

bitwa o Narwik

bitwa o Anglię

bitwa pod Falaise

bitwa pod Lenino

- 7** Spośród podanych wyżej starć wybierz jedno, zapisz je poniżej i podaj nazwę polskiej jednostki, która brała w nim udział.

0-2 p.

- 8** Przedstaw, w jaki sposób wymienione postacie starały się nieść pomoc Żydom w okupowanej Polsce.

0-4 p.

Witold Pilecki – _____

Irena Sendlerowa – _____

9 Zapoznaj się z niemieckim plakatem propagandowym z 1943 r., a następnie wykonaj polecenia.

0-6 p.



a) Opisz scenę przedstawioną na plakacie.

b) Wyjaśnij, dlaczego władze niemieckie upowszechniały ten plakat.

10 Zapoznaj się z fragmentem artykułu z prasy podziemnej z 1945 r., a następnie wykonaj polecenia.

0-6 p.

Rząd polski w Londynie, chociaż jest na obcej ziemi, chociaż jest – przynajmniej to otwarcie – niewygodny dla polityki brytyjskiej [...], to jednak [...] ma zapewnioną pełną niezależność w podejmowaniu decyzji, reprezentuje swobodnie polskie interesy zgodnie z wolą Narodu, nie ugina się pod żadną zakulisową presją. [...]

Tymczasem rząd lubelski [...], choć działa na polskich terenach – zmuszony jest do wykonywania cudzych rozkazów, przekreśla legalną polską Konstytucję nie mając do tego przyzwolenia całego Narodu, oddaje Rosji połowę naszych terenów, nie pytając się absolutnie nikogo o zgodę [...].

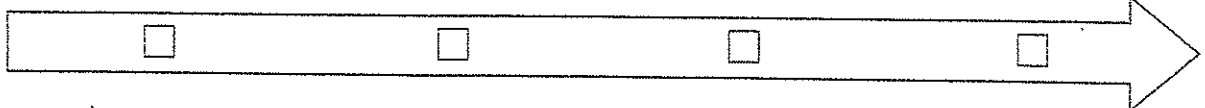
I chociaż rząd lubelski spełnił żądanie, jakie Churchill skierował do naszego Rządu w Londynie, nawiązując stosunki z Rosją, to nic mu to nie pomogło w oczach praworządnej Anglii. Bo nie on, ale właśnie ów oporny rząd londyński jest nadal demonstracyjnie uznawany za legalny rząd polski. Anglia bowiem – choć musi nieraz ryzykownie manewrować na arenie wielkiej polityki – była, jest i będzie prawdziwą demokracją.

a) Rozstrzygnij, czy autor tekstu był zwolennikiem rządu polskiego w Londynie, czy rządu lubelskiego. Uzasadnij odpowiedź.

b) Rozstrzygnij, czy tekst powstał przed ogłoszeniem ustaleń konferencji w Jałcie, czy po tym wydarzeniu. Uzasadnij odpowiedź.

III Uszereguj podane wydarzenia w kolejności chronologicznej. Wstaw odpowiednie litery na osi czasu.

0-2 p.



A. początek operacji „Burza”

B. ogłoszenie manifestu PKWN

C. upadek powstania warszawskiego

D. rozwiązanie Armii Krajowej